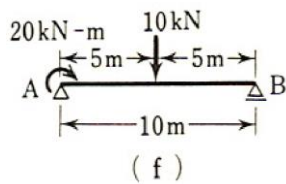


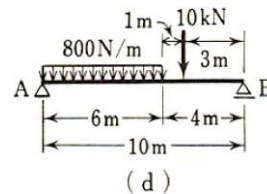
第6回 構造力学演習

「構造力学の基礎」の p. 86~87 に記載してある下記 5 問の断面力図（せん断力 Q 図、曲げモーメント M 図）を作成せよ。また、断面力図には、断面力の最大値・最小値とそれが生じる位置も分かるように記載すること。なお、解答には計算等の途中過程も記載すること。

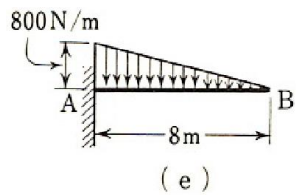
① 5・1 図 5・56 (f)



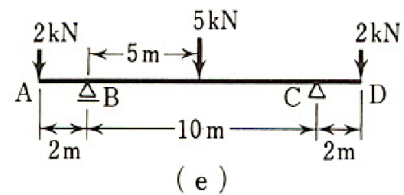
② 5・2 図 5・57 (d)



③ 5・3 図 5・58 (e)



④ 5・4 図 5・59 (e)



⑤ 5・5 図 5・60

