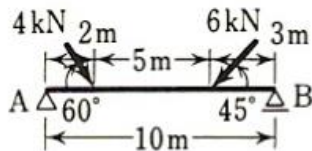


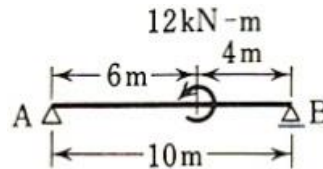
第9回 構造力学演習

「構造力学の基礎」の p. 86~87 に記載してある下記 8 問の断面力図（せん断力 Q 図、曲げモーメント M 図）を作成せよ。また、断面力図には、断面力の最大値・最小値とそれが生じる位置も分かるように記載すること。なお、解答には計算等の途中過程も記載すること。

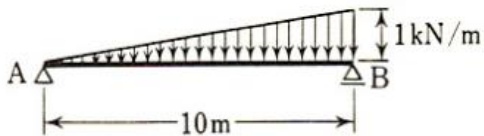
① 5・1 図 5・56 (d)



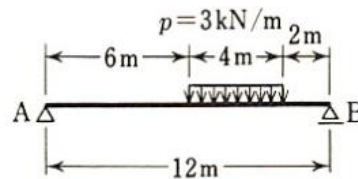
② 5・1 図 5・56 (e)



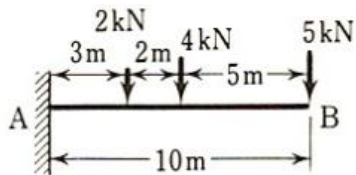
③ 5・2 図 5・57 (b)



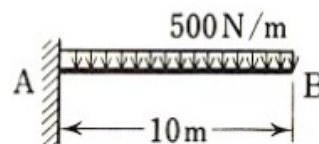
④ 5・2 図 5・57 (c)



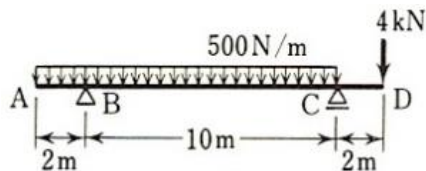
⑤ 5・3 図 5・58 (b)



⑥ 5・3 図 5・58 (d)



⑦ 5・4 図 5・59 (d)



⑧ 5・5 図 5・60 (右上)

