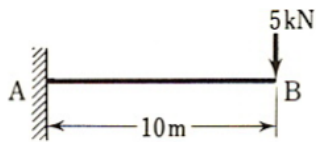


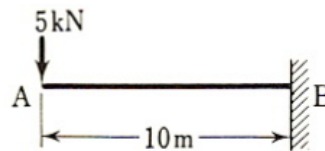
## 第9回 構造力学演習 宿題

「構造力学の基礎」の p. 86~87 に記載してある下記 4 問の断面力図（せん断力  $Q$  図、曲げモーメント  $M$  図）を作成せよ。また、断面力図には、断面力の最大値・最小値とそれが生じる位置も分かるように記載すること。なお、解答には計算等の途中過程も記載すること。

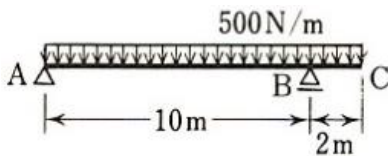
① 5・3 図 5・58 (a)



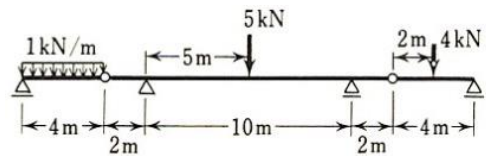
② 5・3 図 5・58 (c)



③ 5・4 図 5・59 (c)



④ 5・5 図 5・60 (左上)



※1 レポート用紙に提出日、学席番号、氏名を記載すること。

※2 宿題の解答・講義内容の質問は 2323 号室まで(要 教科書・ノート・レポート持参)